

Hindi Class 5 Sample Questions:

English:

1. I met Mary, Lily, and Paula at the party. (Replace the underlined words with the correct pronoun.)

- (A) hers (B) her (C) their (D) them

2. Mother : When did you come back from the birthday party? Did you like it there?
Kavita : _____ . (Choose one sentence to complete the dialogue)

- (A) Yes, I did (B) I will think about it (C) I cannot come (D) I don't think

3. Choose the best reply.

Ankit : Is your YGF test result out?

Kaveri : _____

- (A) What's outside? (B) No, not yet. (C) What's the matter? (D) It's not in.

4. He attend the seminar tomorrow. (Choose proper verb tense for the underlined words)

- (A) was attending (B) will attend (C) attends (D) attended

5. Choose the incorrect sentence.


- (A) Newspapers are a wonderful source of information.
(B) Ravi is playing football.
(C) Some children is playing in the ground.
(D) None of the above.



गणित और योग्यता:

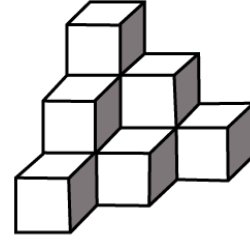
6. निम्नलिखित में से कौन सा 9 का गुणज है?

- (A) 56, 63, 81, 109 (B) 9, 18, 45, 72
(C) 18, 27, 35, 49 (D) 25, 65, 73, 89



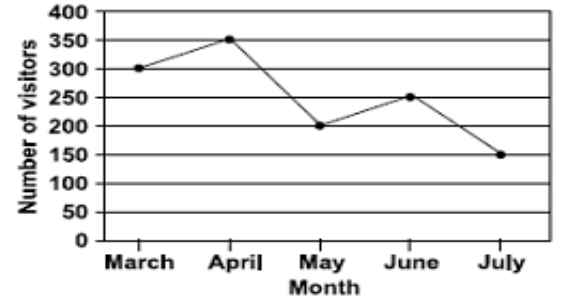
7. दिए गए चित्र में घनों की संख्या गिनें:

- (A) 8 (B) 9
(C) 6 (D) 10



8. रेखा ग्राफ मार्च से जुलाई तक संग्रहालय देखने आए लोगों की संख्या दर्शाता है। जून की तुलना में अप्रैल में कितने अधिक आगंतुक थे?

- (A) 200
(B) 350
(C) 150
(D) 100



9. एक सीढ़ी में समान आकार की 50 सीढ़ियाँ हैं। यदि एक बिल्ली 5वें चरण से शुरू करती है और एक बार में पांच सीढ़ियाँ कूदती है और चूहा 8वें चरण से शुरू करता है और एक बार में चार सीढ़ियाँ कूदता है, तो क्या चूहा बच सकता है? यदि नहीं, तो बिल्ली किस कदम पर चूहे को पकड़ लेगी?

- (A) नहीं, 20वें चरण पर. (B) हाँ.
(C) नहीं, 24वें चरण पर. (D) नहीं, 25वें चरण पर.

10. रिंकू के पास एक जार में 500 सिक्के थे। उसने सिक्कों को 25 अलग-अलग ढेरों में क्रमबद्ध किया। प्रत्येक ढेर में सिक्कों की समान संख्या थी। प्रत्येक ढेर में कितने सिक्के थे?

(A) 20

(B) 45

(C) 25

(D) 12

विज्ञान :

11. ठंडे क्षेत्रों में रहने वाले जानवरों के कान छोटे होते हैं। इनमें ध्रुवीय भालू, आर्कटिक लोमड़ी और ऐसे अन्य जानवर शामिल हैं। ये छोटे कान मदद करते हैं

- (A) शरीर में गर्मी की कमी को कम करें
- (B) उन्हें दूर की आवाजें सुनने में मदद करें
- (C) शरीर में गर्मी की कमी बढ़ जाती है
- (D) इनमें से कोई नहीं



12. निम्नलिखित में से कौन ऊर्जा का स्रोत नहीं है?

- (A) लकड़ी
- (B) पत्थर
- (C) पेट्रोल
- (D) कोयला

13. समाचार-पत्र अथवा टेलीविजन के माध्यम से अगले दिन के मौसम के समाचार को क्या कहा जाता है?

- (A) बारिश का पूर्वानुमान
- (B) जलवायु परिवर्तन
- (C) हवा की दिशा
- (D) मौसम की भविष्यवाणी

14. _____ विद्युत का अच्छा सुचालक है।

- (A) धातु
- (B) रबड़
- (C) प्लास्टिक
- (D) ये सभी हैं

15. वह पदार्थ जो पौधों को हरा रंग प्रदान करता है, कहलाता है?

- (A) पानी
- (B) क्लोरोफिल
- (C) कार्बन डाईऑक्साइड
- (D) कैल्शियम.

सामाजिक विज्ञान एवं सामान्य ज्ञान

16. निम्नलिखित में से कौन सा जल निकाय भारत को नहीं घेरता है??

- (A) प्रशांत महासागर
- (B) बंगाल की खाड़ी



- (C)अरब सागर
(D)हिंद महासागर

17.गाँव में स्थानीय सरकार को _____ कहा जाता है।

- (A)नगर पालिका
(B) मंत्रालय
(C) पंचायत
(D) इनमें से कोई नहीं



18.संयुक्त राष्ट्र की कौन सी एजेंसी स्वास्थ्य संबंधी समस्याओं की देखभाल करती है?

- (A) डब्लू एच् वो (B) यूनेस्को (C) एफ ए ओ (D)आई एल ओ

19.गलत मिलान का चयन करें.

- (A) सुश्रुत - प्लास्टिक सर्जरी के जनक
(B) कालिदास - अभिज्ञान शाकुंतलम लिखा
(C) तानसेन - अकबर के दरबार के नवरत्न
(D) रवीन्द्रनाथ टैगोर - भारत छोड़ो आंदोलन शुरू किया

20.स्वर्ण मंदिर निम्नलिखित में से किस शहर में स्थित है?

- (A)दिल्ली
(B)मुंबई
(C)लखनऊ
(D)अमृतसर



कंप्यूटर

21.निम्नलिखित में से कौन सा उपकरण कंप्यूटर ऑडियो को श्रव्य ऑडियो के रूप में उत्सर्जित करता है?

- (A) ट्रैकबॉल (B) कर्सर (C) वेबकैम (D) स्पीकर

22.उस हिस्से का नाम बताएं जो कंप्यूटर के अन्य हिस्सों को सिग्नल भेजता है और उन्हें बताता है कि क्या करना है।

- (A)सी पी यू (B)मदरबोर्ड (C)आइकन (D) हार्ड ड्राइव

23.इनमें से कौन सा एक ऑपरेटिंग सिस्टम है?

- (A)डैल (B) विंडोज़ एक्स (C) याहू (D) माइक्रोसॉफ्ट

Answers:

1.D 2.A 3.B 4.B 5.C 6.B 7.D 8.D 9.A 10.A 11.A 12.B
13.D 14.A 15.B 16.A 17.C 18.A 19.D 20.D 21.D 22.A 23.D