

Hindi Class 1 Sample Question:

English:

1. Choose the odd word out.

- (A) Railway station (B) River (C) Train (D) Bogie

2. Identify the picture and fill in the blanks to form the correct spelling.

UMBRE__A

- (A) UMBRE LL_A
(B) UMBRE LA_A
(C) UMBRE EL_A
(D) None of these



3. Identify the verb.

Rohit is going to school.

- (A) Rohit (B) going (C) School (D) To

For que 4 & 5. From the given picture, answer the following questions

4. My Name is Aarav, i am a _____
(A) Plumber



- (B) Doctor
- (C) Firefighter
- (D) Teacher

5. My job is to control _____ in the building .

- (A) Electricity
- (B) Fire
- (C) Security
- (D) Patients

गणित और योग्यता:


6. छोटे जानवर का चयन करें.



(A)



(B)



(C) दोनों एक जैसे हैं

(D) इनमें से कोई नहीं

7. रिकू के पास 20 गेंदें हैं. वह अपनी बहन को 5 गेंदें देता है। अब रिकू के पास कितनी गेंदें हैं?

(A) 15

(B) 10

(C) 25

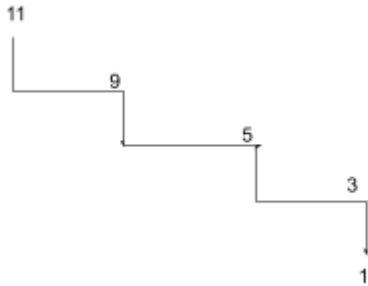
(D) 5

8. समान आकृतियों का सही युग्म चुनें:

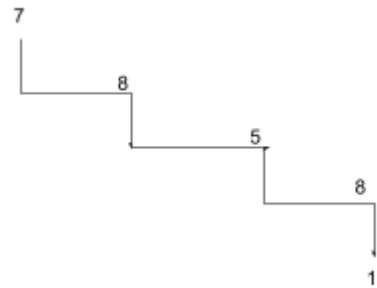


9. निम्नलिखित में से कौन सा सही अवरोही क्रम दर्शाता है?

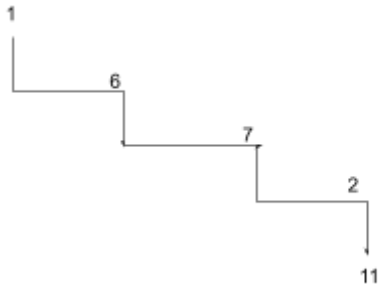
(A)



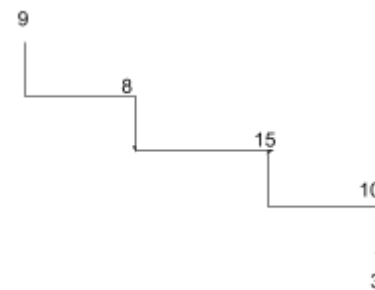
(B)



(C)



(D)



10. पक्षियों की संख्या गिनें



(A) पांच

(B) छह

(C) तीन

(D) सात

विज्ञान:

11. मनुष्य साँस लेते समय क्या लेता है?

(A) जल

(B) अग्नि

(C) वायु

(D) इनमें से कोई नहीं

12. चित्र को देखें और निम्नलिखित वाक्य को पूरा करें।

हमेशा _____ क्रॉसिंग पर सड़क पार करें।

(A) बाघ

(B) लोमड़ी

(C) ज़ेबरा

(D) फुटपाथ



13. हमारे शरीर का कौन सा अंग हमें भोजन का स्वाद बताता है?

(A) आंख

(B) नाक

(C) जीभ

(D) हाथ

14. नीचे दिए गए पैराग्राफ को पूरा करने के लिए शब्दों का सही क्रम चुनें।

गर्मी के दिन _____ होते हैं जबकि सर्दी के दिन _____ होते हैं। तेज़ हवा चलती है।
_____। मानसून के दिन _____ होते हैं।


(A) ठंडा, गर्म, तेज़ हवा वाला दिन, बरसात
(C) गर्म, ठंडा, तेज़ हवा वाला दिन, बरसात

(B) बरसात, ठंडा, गर्म दिन, तेज़ हवा
(D) तेज़ हवा, गर्म, बरसात वाला दिन, ठंडा

सामान्य ज्ञान

15. निम्नलिखित में से कौन सा भारत का राष्ट्रीय फल है?

(A) सेब




(B) आम



(C)संतरा



(D)अंगूर



16. दिल्ली के वर्तमान मुख्यमंत्री कौन हैं?

(A) श्री नरेंद्र मोदी

(C) श्री अरविंद केजरीवाल

(B) श्री राम नाथ कोविन्द

(D) श्रीमती प्रतिभा पाटिल

17. दिखाए गए चित्र से संबंधित त्यौहार को पहचानें

(A) दिवाली

(B) ईद

(C) होली

(D) क्रिसमस



18. हम घर के अंदर जिस मशीन का उपयोग करते हैं उस पर निशान लगाएं

(A) कार



(B) वॉशिंग मशीन



(C) पेट्रोल पंप



(D) विमान



19. जब कोई मेरी मदद करता है, तो मैं कहता हूँ _____।

(A) आपका स्वागत है

(B) धन्यवाद

(C) सुप्रभात

(D) क्षमा करें

कंप्यूटर

20. कंप्यूटर एक मशीन है जो हमें _____ में मदद करती है।

(A) गेम खेलें

(B) फिल्में देखें

(C) संगीत सुनें

(D) ये सभी

21. आप कंप्यूटर के किस भाग से ध्वनि सुनते हैं?

(A) माउस




(C) स्पीकर



(B) कीबोर्ड



(D) मॉनिटर



22. कंप्यूटर में सीपीयू का क्या मतलब है?

(A) कंट्रोल प्रोसेसिंग यूनिट

(C) सेंट्रल प्रोसेसिंग यूनिट

(B) कॉल प्रोसेसिंग यूनिट

(D) कॉपी प्रोसेसिंग यूनिट

