

HINDI Class 7 Sample Questions:

English:

1. Choose one suitable word for each blank.

Someone who interprets is an _____.

- (A) interpretist (B) interpreter (C) interprecian (D) interpretor

2. Choose the correct option.

Amtul : Let's go out for lunch.

Richa: OK. _____ where?

- (A) And (B) But (C) So (D) Or

3. After he ----- the roof ----- [leave , collapse]

- (A) left , collapsed (B) has left , collapsed
(C) left , had collapsed (D) had left, collapsed

4. Choose one sentence to complete the dialogue.

Sentence 1. God wanted the people He had created to have a happy life.

Sentence 2. _____.

Sentence 3. Water, air and sunlight were, therefore, given in abundance.

- (A) That's why He decided to bless the earth with riches
(B) People had to live with water, air, and sun
(C) Earth could have them in abundance
(D) Therefore, He created the earth

5. They ----- to London next year . [Choose the best word / phrase to complete the sentence]

- (A) went (B) go (C) had gone (D) are going

गणित और योग्यता:

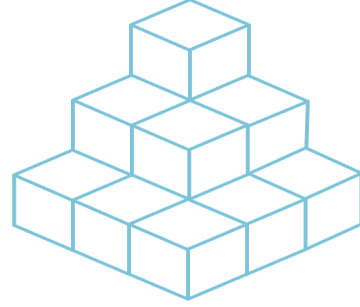
6. दिए गए चित्र में घनों की संख्या गिनें

(A) 15

(B) 12

(C) 13

(D) 14



7. एक पार्किंग स्थल में, प्रत्येक 8 में से 1 कार लाल है। इस लॉट में कितनी प्रतिशत कारें लाल हैं?

(A) 1.25%

(B) 7%

(C) 9%

(D) 12.5%

8. तीन व्यक्तियों की आयु का योग 50 वर्ष है। 5 वर्ष बाद उनकी आयु का योग क्या होगा?

(A) 65

(B) 55

(C) 150

(D) 21

9. $3x - 2y$ प्राप्त करने के लिए $-5x + 3y$ में क्या जोड़ा जाना चाहिए?

(A) $5x - 4y$

(B) $8x - 5y$

(C) $-8x - 4y$

(D) $2x - 10y$

10. मोहित को 60 रुपये पर 60 पैसे का लाभ हुआ। उसका लाभ प्रतिशत _____ है।

(A) 1%

(B) 0.1%

(C) 10%

(D) 1.1%

विज्ञान:

11. कोशिका में भोजन के टूटने की प्रक्रिया को _____ कहा जाता है।

(A) वायवीय श्वसन

(B) अवायवीय श्वसन

(C) फुफ्फुसीय श्वसन

(D) कोशिकीय श्वसन.

12. साइट्रिक एसिड एंटीऑक्सीडेंट के रूप में कार्य करता है, चयापचय में मदद करता है, गुर्दे की पथरी की रोकथाम करता है, त्वचा के पुनर्विकास में मदद करता है और पाचन में भी मदद करता है। क्या आप बता सकते हैं कि हमें साइट्रिक एसिड कहाँ मिलता है?

(A) दही

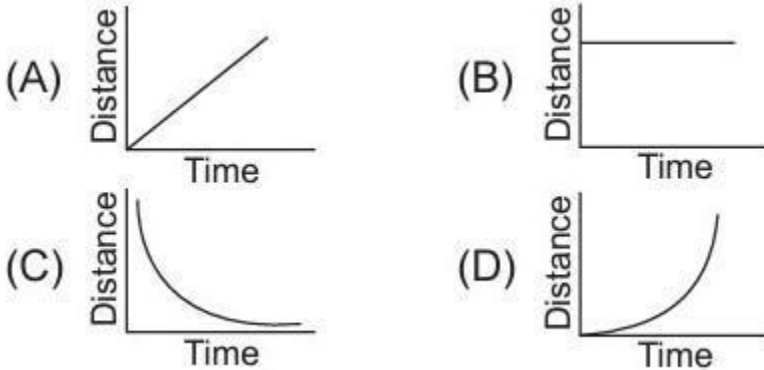
(B) खट्टे फल (C) एस्कॉर्बिक अम्ल

(D) नीबू का रस

13. _____ मछलियों में सांस लेने के लिए बाहरी अंग होते हैं, जो मुंह के पास स्थित होते हैं।

- (A) फेफड़े (B) नाक (C) त्वचा (D) गलफड़ा

14. एक पिंड एकसमान वेग से गति करता है। यहां दिखाया गया कौन सा ग्राफ इस गति के लिए समय के विरुद्ध दूरी का ग्राफ है?



15. बेकिंग सोडा का उपयोग ब्रेड, केक, कुकीज़, पुडिंग और बहुत कुछ बनाने के लिए किया जाता है। बेकिंग सोडा का रासायनिक नाम क्या है?

- (A) सोडियम एसीटेट (B) सोडियम बाईकारबोनेट
(C) सोडियम सल्फेट (D) इनमें से कोई भी नहीं

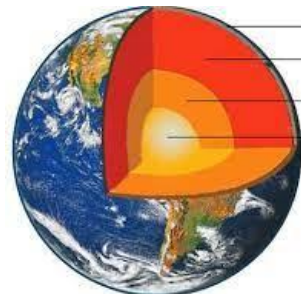
सामाजिक विज्ञान एवं सामान्य ज्ञान

16. दीन-ए-इलाही, जिसे अपने समय में तौहीद-ए-इलाही के नाम से भी जाना जाता था, 1582 में मुगल सम्राट _____ द्वारा बनाया गया एक समन्वित धर्म था। दीन-ए-इलाही के तत्व ईसाई धर्म, हिंदू धर्म, इस्लाम, पारसी धर्म, बौद्ध धर्म और जैन धर्म से लिए गए थे। दीन-ए-इलाही नाम का शाब्दिक अर्थ है "ईश्वर का धर्म"। उस मुगल सम्राट का चयन करें जिसने इस धर्म को बनाया।

- (A) जहाँगीर (B) शाहजहाँ (C) बाबर (D) अकबर

17. पृथ्वी की सबसे पतली परत है

- (A) भूपटल (B) मॅटल
(C) कोर (D) इनमें से कोई नहीं



18. निम्नलिखित में से किस मानवीय गतिविधि को पर्यावरण पर नकारात्मक प्रभाव डालने वाला बताया जा सकता है?

- (A) वनों की कटाई (B) जल छाजन (C) पेड़ लगाना (D) इनमें से कोई नहीं

19. प्रधान मंत्री नरेंद्र मोदी पहले भारतीय प्रधान मंत्री बन गए हैं जिन्हें फ्रांस के राष्ट्रपति _____ द्वारा फ्रांस के सर्वोच्च नागरिक और सैन्य सम्मान, ग्रैंड क्रॉस ऑफ द लीजन ऑफ ऑनर से सम्मानित किया गया है।

(A) ऋषि सुनक

(B) जो बाइडन

(C) इमैनुएल मैक्रॉन.

(D) एन्जेला मार्केल



20. शिक्षा का अधिकार अधिनियम 1 अप्रैल 2010 से लागू हुआ। इस अधिनियम के तहत 6-14 वर्ष की आयु के प्रत्येक बच्चे

- (A) अनिवार्य एवं निःशुल्क प्रारंभिक शिक्षा प्रदान की जायेगी
(B) स्कूल जाने के लिए बाध्य नहीं किया जाएगा
(C) उनके परिवार के लिए पर्याप्त भोजन और कपड़े उपलब्ध कराए जाएंगे
(D) उसकी योग्यता के आधार पर किसी विदेशी स्कूल में प्रवेश दिया जाएगा।

Computer

21. ई-मेल का मतलब है

- (A) इलेक्ट्रॉनिक मेल (B) विद्युत संदेश
(C) त्रुटि मेल (D) चुनाव मेल



22. एप्पल डिवाइस के एप्लिकेशन स्टोर को कहा जाता है

- (A) आईट्यून्स (B) गूगल प्ले (C) ऐप स्टोर (D) विंडोज ऐप

23. पायरेटेड सॉफ्टवेयर में शामिल हो सकते हैं

(A) गुणवत्ता

(B) वायरस

(C) इनमें से कोई नहीं (D) मुद्रा

Answers:

1.B 2.B 3.A 4.A 5.D 6.D 7.D 8.A 9.B 10.A 11.D 12.B 13.D
14.A 15.B 16.D 17.A 18.A 19.C 20.A 21.A 22.C 23.B